

16

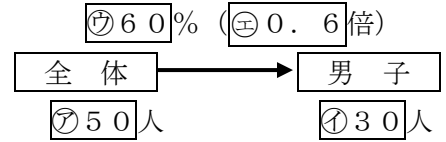
割合(7)

→15へ

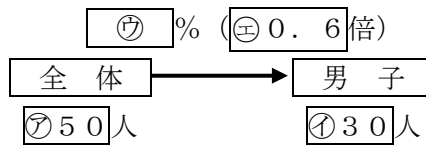
年 組 番 名前

練習 次の文章は、右のような図に表すことができます。

運動クラブに集まった人数は、 $\textcircled{ア}$ 50人です。このうち男子は
 $\textcircled{イ}$ 30人で、これは全体の $\textcircled{ウ}$ 60%にあたります。

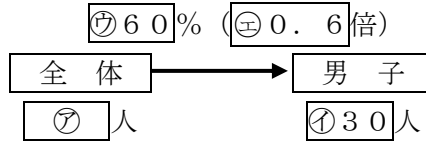


① $\textcircled{ウ}$ を求める問題を作りましょう。



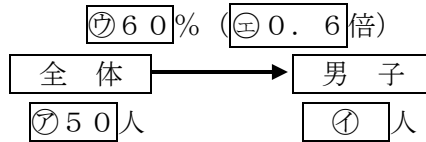
(例) 運動クラブに集まった人数は、50人です。このうち男子は30人です。男子は全体の何%ですか。

② $\textcircled{ア}$ を求める問題を作りましょう。



(例) 運動クラブに集まった人数のうち、男子は30人で、これは全体の60%です。運動クラブに集まった人数は何人ですか。

③ $\textcircled{イ}$ を求める問題を作りましょう。



(例) 運動クラブに集まった人数は、50人です。このうち60%が男子です。男子の人数は何人ですか。