

# 16

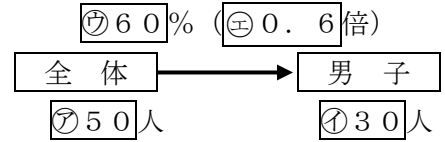
## 割合(7)

→15へ

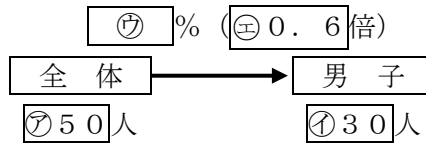
年 組 番 名前

練習 次の文章は、右のような図に表すことができます。

運動クラブに集まった人数は、 $\text{㉞}50$ 人です。このうち男子は  
 $\text{㉟}30$ 人で、これは全体の $\text{㊱}60$ %にあたります。



① ㊱を求める問題を作りましょう。

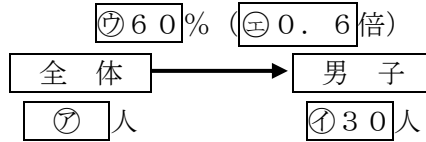


---



---

② ㊰を求める問題を作りましょう。

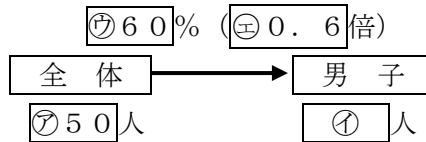


---



---

③ ㉟を求める問題を作りましょう。



---



---